






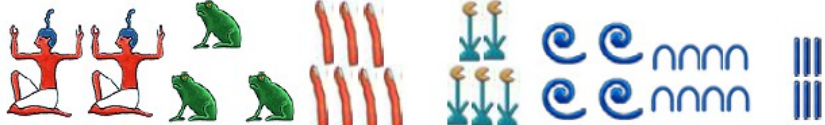



Ägyptische Zählzeichen

Die Ägypter verwendeten schon im dritten Jahrtausend vor unserer christlichen Zeitrechnung für die schriftliche Wiedergabe der Zahlen von 1 bis zur Million folgende Individualzeichen:

1		ein Strich	10000		ein Zehlfinger
10		ein Bügel	100000		ein Frosch
100		ein Strick	1000000		ein sitzender Gott, Unendlichkeit
1000		eine Lotosblume			

Entziffere die unten abgebildeten Zahlen a) bis d) und addiere die Ergebnisse.

a)			
b)		c)	d)
	